




¿Hay sitio?



FEBRERO 2023



MIÉRCOLES JUEVES VIERNES SÁBADO DOMINGO



LUNES MARTES

5
3
1

1 - 2 - 3 - 4 - 5

$\square + \square + \square = \square$

¿CUÁNTAS PIERNAS VES?

RETROCEDE DESDE 5

¿CUÁNTOS VÉRTICES VES?

¿CUÁNTAS FIGURAS HAY?

DOBLE DE CUATRO

$\square \square$

¿CUÁNTOS LADOS HAY?

$\square + \square + \square = \square$

SOL DEL 10

$\square + \square = \square$

¿CUÁNTOS LADOS HAY?

$\square + \square + \square = \square$

CUENTA LOS OJOS QUE VES

¿CUÁNTAS FIGURAS HAY?

CADA UNO VALE 5 PUNTOS

$\square + \square + \square = \square$

¿CUÁNTAS FIGURAS HAY?

¿CUÁNTOS PUNTOS SUMAN?

10 5 2

PANDILLA DEL 8
FAMILIA DEL 10

$20 - 1 = \square$

SOL 2 DECENAS

$25 - 4 =$

DOBLE DE 11

OOIII = \square

¿CUÁNTOS LADOS HAY?

2 DECENAS Y 5 UNIDADES

PANDILLA DEL 6
FAMILIA DEL 20

$30 - 3 = \square$

DÍA DE ANDALUCÍA

