

# MARZO 2023

# EL LOBO QUE DESCUBRIÓ EL PAÍS DE LOS CUENTOS

MIÉRCOLES

JUEVES

VIERNES

SÁBADO

DOMINGO

LUNES

MARTES

¿CUÁNTAS CESTAS LLEVA LUPO?



¿CUÁNTAS LETRAS HAY EN PRIMAVERA?

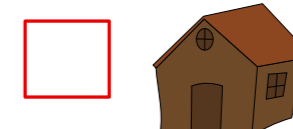
8 - 9 - 10 - 11

¿CUÁNTAS OREJAS HAY?



$$\square + \square + \square = \square$$

LA CASA DE MADERA LLEVA OOOOIII TABLAS DE MADERA




EL DOBLE DE 5 MANZANAS



$$\square + \square = \square$$

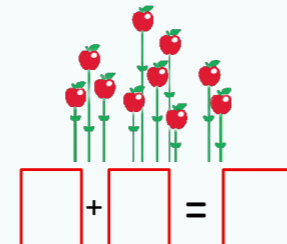
CONSTRUYE UNA PIRÁMIDE NUMÉRICA



LUPO ESTÁ EN EL NÚMERO 7 Y LLEGA A LA CASA QUE ESTÁ EN EL NÚMERO 17. ¿CUÁNTOS PASOS HA DADO?



DOBLE DE 10




$$\square + \square = \square$$

3 CESTAS CON 10 MANZANAS



$$\square + \square + \square = \square$$

SOL DEL 10




LUPO CAMINA DE 2 EN 2 DESDE EL 1



CAPERUCITA LLEVA 20 FLORES Y LE DA 2 FLORES A LUPO. SE QUEDA CON



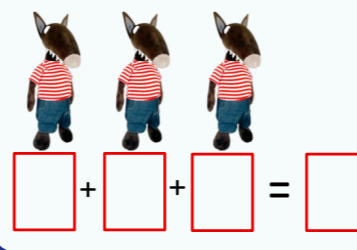
CUENTA LOS OJOS QUE VES



¿CUÁNTOS OJOS HAY?



CADA UNO CUESTA 5€




$$\square + \square + \square = \square$$

AMIGOS DEL 10




$$\square \square$$

CAPERUCITA SE HA ESCONDIDO EN MEDIO DEL 1 EL 9




PANDILLA DEL 8 FAMILIA DEL 80




$$\square$$

20 - 3 =  $\square$



SOL DEL 20



RETROCUENTA

DESDE 5  
DESDE 10  
DESDE 20



HARINA  
MANTEQUILLA  
HUEVOS  
AZÚCAR  
MANEZANAS

CUESTA 12€, PAGO ME DEVUELVEN



LOS DOBLES EN EL ESPEJO



¿CUÁNTAS ZAPATILLAS NECESITAN 7 ENANITOS?




$$\square$$

5 DECENAS DE MANZANAS



$$\square$$

PANDILLA DEL 6 FAMILIA DEL 20




$$\square$$



OO - III

$$20 - 3 = \square$$

REPARTE 12 ENTRE 2 TARTAS




$$\square$$

DOBLE DE 15



$$\square + \square = \square$$

SOL DEL 30



¿CUÁNTOS INVITADOS LLEGARÁN A LA MERIENDA?



$$\square$$

